





تقييم مكتسبات التلاميذ في
بداية السنة سنة الثالثة
المادة: رياضيات

www.medrassatouna.com



السند عدد 1

بمناسبة عيد ميلاد الأم كسر الأطفال الثلاثة حصّالتهم فتحصلوا على
المبالغ التالية:

أمنية	مريم	أحمد
		
895 مي	990 مي

التعليمة 1-1:

أحسب المبلغ الذي يملكه أحمد

مع 3

التعليمة 2-1:

أواصل المبلغ الذي تملكه مريم بأقل ما يمكن من القطع النقدية

مع 3


التعليمة 1-3:

أمثل المبلغ الذي تملكه أمينة بأقل ما يمكن من القطع النقدية



مع 3

السند عدد 2

اتجه أحمد إلى المغازة فاشترى إطار فضي  بـ 530 مي وقلما
يقل ثمنه عن ثمن الإطار الفضي بـ 210 مي .

التعليمة 1-2

أحسب ثمن القلم بالمي

.....

التعليمة 2-2

أحسب ثمن المشتريات بالمي

.....

التعليمة 3-2

أحسب المبلغ الذي تبقى لأحمد بالمي

.....


السند عدد 3




أمّا ريم توجهت إلى بائع الزهور واشترت باقة أزهار



بـ 430 مي ومزهريّة صغيرة بـ 550 مي



مع 1



مع 2

التعليمة 1-3

أحسب ثمن المشتريات بالمي

التعليمة 2-3

أحسب المبلغ المتبقي بالمي

السند عدد 4



أما أمينة ذهبت إلى المغازة واشترت شموع معطرة
بـ 520 مي وقطعة شكلاطة بـ 320 مي

التعليمة 1-4

أحسب ثمن المشتريات بالمي

التعليمة 2-4

أحسب المبلغ المتبقي بالمي

السند عدد 5

مع 1

مع 2

مع 1

مع 2

التعليمة 1-5

أرادت أمينة شراء قطعة مرطبات بـ 455 مي

أطرح سؤالاً للوضعية و أجيب عنه:

السؤال:

الاجابة:




.....

.....

.....

السند عدد 6

وكانت هذه اشكال الهدايا

الإطار الفضي	قطع الشكلاطة	قطع المرطبات
		
عدد أضلاعه نوعه	عدد أضلاعه نوعه	عدد أضلاعه نوعه

التميز	المعايير الحد الأدنى						حساب الذهني			مستويات التملك		
	مع 5	مع 4	مع 3	مع 2		مع 1					المعايير	
	1	1	1.5	1	0.5	1.5	1	0.5	1.5	1	0.5	---
2	2	2	2		2		3	2.5	2			++-
4	3	3	3	2.5	3	2.5	4	3.5				+++

مع 5

مع 4

www.medrassatouna.com

--	--

www.medrassatouna.com