



التصريف في القطعة النقدية والورقة المالية 5د - 10د السنة الرابعة

www.medrassatouna.com



النشاط عدد 1

كسّر الأطفال حصّالتهم فتحصلّوا على المبالغ التالية

منير	سلمى	رامي
.....	45830 مي	23550 مي

- 1- أمثل المبلغ الذي يملكه رامي بأقل ما يمكن من القطع والأوراق المالية.
- 2- أو اصل تمثيل المبلغ الذي تملكه سلمى بأقل ما يمكن من القطع والأوراق المالية.
- 3- أحسب المبلغ الذي يملكه منير.
- 4- احسب المبلغ الذي تحصل عليه الأطفال بالمي
.....
.....
- 5- أمثل هذا المبلغ بأقل ما يمكن من القطع والأوراق المالية

.....

النشاط عدد 2

أمثل كل مبلغ مالي حسب المطلوب

لأحمد	لسلمى	لمريم
65950 مي	54320 مي	24250 مي

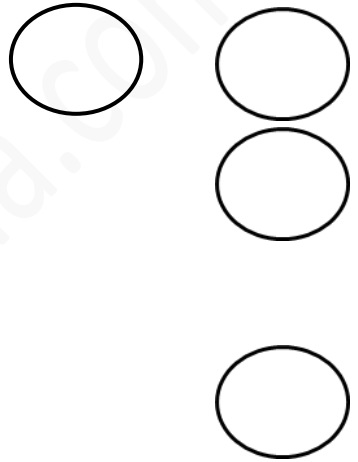
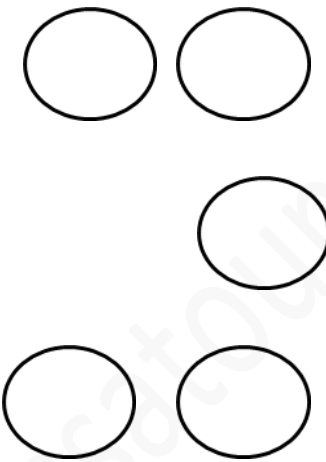

النشاط عدد 3

يملك أحمد ورقتان ماليتان من فئة 10د و 4 قطع نقدية من فئة 5د و 5 قطع نقدية من فئة 2د
ماهو المبلغ الذي يملكه احمد بالمي؟

.....
.....
.....

النشاط عدد 3

لأيمن مبلغا ماليا قيمته 35د
أمثل هذا المبلغ بـ 3 طرق

الطريقة الأولى	الطريقة الثانية	الطريقة الثالثة
		

النشاط عدد 4

تملك السيدة فاطمة 8 أوراق من فئة 10 د، اتجهت إلى المغازة
فاشتريت 5 قطع من المرطبات بـ 1850 هي الواحدة و 6 علب من
العصير بـ 1200 هي الواحدة و 4 علب من الطماطم بـ 3950 هي
الواحدة.

1- أحسب المبلغ الذي تملكه السيدة فاطمة بالمي

.....
.....
.....

2- أحسب المبلغ الذي تملكه السيدة فاطمة بالمي

.....
.....

1- أحسب ثمن قطع المرطبات بالمي وأمثله بأقل ما يمكن من القطع النقدية

.....
.....

2- أحسب ثمن علب العصير بالمي وأمثله بأقل ما يمكن من القطع النقدية

.....
.....

3- أحسب ثمن علب الطماطم بالمي وأمثله بأقل ما يمكن من القطع النقدية

.....
.....

4- احسب ثمن المشتريات بالمي وأمثله بأقل ما يمكن من القطع النقدية

.....
.....

5- أحسب المبلغ المتبقي بالمي وأمثله بأقل ما يمكن من القطع النقدية

.....
.....

www.medrassatouna.com