



بِسْمِ اللَّهِ الرَّحْمَنِ الرَّحِيمِ

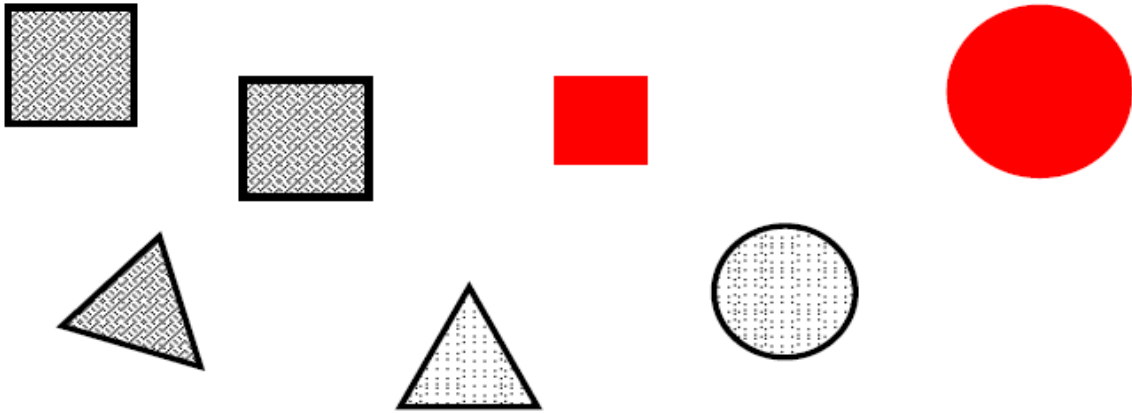
المدرسة الافتراضية
#علمني_عن_بعد



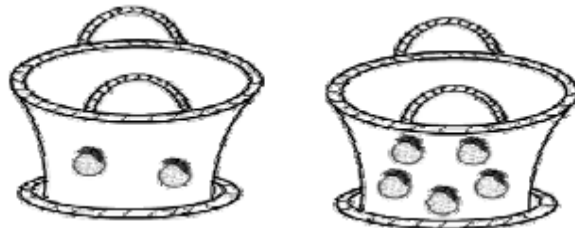
1	20	العدد	امتحان الثلاثي الأول العام الدراسي 2020-2021			
			المادة	نشاط رياضي منطقي	القسم	التحضير
			الزمن	التاريخ	18 جانفي 2021	
			اسم التلميذ (ة)			

ملاحظة على كل تلميذ كتابة الاسم و اللقب فقط و حل الامتحان بمفرده لتتم عملية التقييم بشكل جيد /بالتوفيق/

1/ هذه أشكال زوقتها شروق ثم نظمها
أصنف مجموعة الأشكال حسب خاصية أختارها







2/ خرجت شروق رفقة أختها أميمة إلى البستان قطفت شروق خمس برتقالات و قطفت أميمة برتقالتين
أ/ أضع علامة تحت السلة التي بها ثمار أكثر



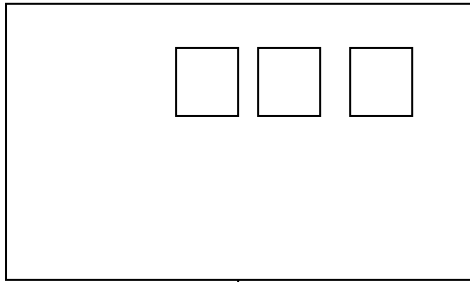
ب / ألون بالأحمر عدد برتقالات أميمة
ج / ألون بالأصفر عدد برتقالات شروق

5 4 3 2 1

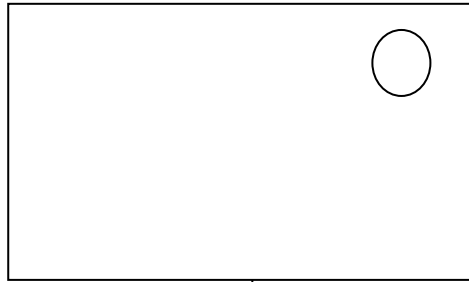
3/ في الليل تستمتع شروق بمشاهدة السماء و رؤية النجوم و عدها
أساعد شروق على عد النجوم و تلوين العدد المناسب

											
6	3	2	5	4	1	5	2	6	4	6	3

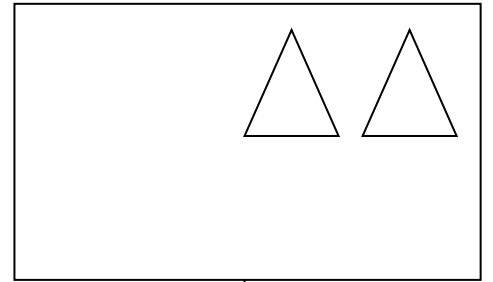
4/ بعد تزويق الأشكال و ترتيبها قامت شروق بعدها
ألاحظ العدد و أكمل الرسم



5



6



4

5/ تربي شروق مجموعة من القطط في منزلها ... ماهو عدد هذه القطط
اكتبه بخط جميل ست مرات

