

عربية

فرنسية

رياضيات

ألعاب


علوم

مدرسة صفييري

مدرستنا

medrassatouna.com

كراس العطلة للمرتقين إلى السنة الخامسة





رحلة إلى الشاطئ

من أطيّب مُتَع الحياة أن أخرج في رحلة مع أسرتي، وأن أشارك مع أمي وأبي وإخوتي لحظات الفرح والسعادة، فالرحلات تملأ قلبي بالشغف والإلهام، وتجعلني أستعيد طاقتي وأجدّد حماسي، وأخطط لفعل الكثير من الأشياء، وفي هذه المرة اخترنا الذهاب إلى مدينة سوسة، حيث البحر الساحر والمكان الذي يُريح النفس والبال. ما إن وصلنا ، حتى تَمَلَّكني الشغفُ أنا وأخوتي لرؤية البحر، فالبحر بالنسبة لنا مكانٌ يلقّه غموض الحكايات الكثيرة التي كانَ يرويها لنا أبي وأمي، لذلك أخذنا نتأمل زرقة المياه التي تنعكس عليها زرقة السماء الصافية، وأبهرنني منظر القوارب التي تجوب البحر في كل اتجاه، ومنظر السفن الضخمة التي ترسو في البحروكم كانت تجربةً مثيرةً جدًا عندما أخذنا والدي في جولةٍ داخل البحر، حيث ركبنا جميعًا سفينة جابت بنا في أعماق البحر فاستمتعنا بالمنظر الساحر الخلاب و عندما عدنا إلى البيت، أخذت القلم والورقة ودوّنت مذكراتي حول رحلة من أجمل الرحلات في حياتي

السؤال 1 :

أين دارت أحداث النص ؟

.....

السؤال 2 :

أذكر الزمان الذي وقعت فيه أحداث النص :

.....

السؤال 3 :

ما هي الشخصيات المذكورة في النص ؟

.....

أربط بسهم كل كلمة والمعنى المرادف لها ثم أنتج 5 جمل تحتوي
على هذه الكلمات

* أثار الدهشة والإعجاب

* الإلهام

* كتب

* تأمل

* تتوقف عند الشاطئ

* أبهر

* أطال النظر

* تزسو

* إيقاع شيء في القلب يطمئن له الصدر

* دؤن

..... -

..... -

..... -

..... -

..... -



السؤال 1 :

أين دارت أحداث النص ؟

دارت أحداث النص في مدينة سوسة .

السؤال 2 :

أذكر الزمان الذي وقعت فيه أحداث النص :

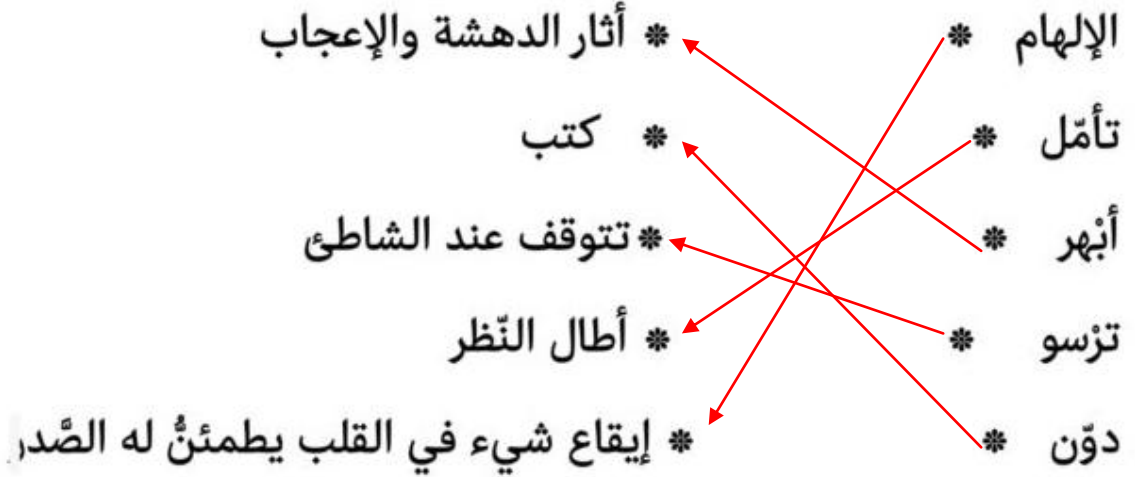
وقعت أحداث النص في فصل الصيف .

السؤال 3 :

ما هي الشخصيات المذكورة في النص ؟

شخصيات النص هي الراوي ووالداه و إخوته .

أربط بسهم كل كلمة والمعنى المرادف لها ثم أنتج 5 جمل تحتوي على هذه الكلمات



1 - الطَّبِيعَةُ الْخَلَائِبَةُ هِيَ مَصْدَرُ إِلهَامِ الشَّاعِرِ.

2 - تَأَمَّلْتُ الْبِنْتَ لِحِظَةِ غُرُوبِ الشَّمْسِ .

3 - أَبْهَرَ الْمَطْرِبُ الْجُمْهُورَ بِصَوْتِهِ الرَّائِعِ .

4 - رَسَتْ السَّفِينُ بِالْمِينَاءِ .

5 - دَوَّنَ الْمَدِيرُ أَسْمَاءَ الْحَاضِرِينَ فِي الْاجْتِمَاعِ .

الفِعْلُ الْمَجْرَدُ وَ الْفِعْلُ الْمَزِيدُ

1 - الفعل المَجْرَدُ :

الفِعْلُ الْمَجْرَدُ هُوَ مَا حُرُوفُهُ أَصْلِيَّةٌ وَلَا يُمَكِّنُ الْاسْتِغْنَاءَ عَنْهَا وَيَنْقَسِمُ إِلَى قِسْمَيْنِ :

المَجْرَدُ الثَّلَاثِي : وَهُوَ يَتَكَوَّنُ مِنْ ثَلَاثَةِ أَحْرَفٍ أَصْلِيَّةٍ وَهِيَ الْفَاءُ وَالْعَيْنُ وَاللَّامُ مِثْلُ : جَلَسَ - أَكَلَ - كَتَبَ ... فَكُلُّ فِعْلٍ مِنَ الْأَفْعَالِ السَّابِقَةِ تُعْتَبَرُ فِعْلاً مَجْرَداً مِنْ أَحْرَفِ الزِّيَادَةِ .

المَجْرَدُ الرَّبَاعِي : وَهُوَ يَتَكَوَّنُ مِنْ أَرْبَعَةِ أَحْرَفٍ عَلَى وَزْنِ فَعَّلَ مِثْلُ بَعَثَ - وَسَّوسَ - دَخَرَجَ

2 - الفِعْلُ الْمَزِيدُ :

الفِعْلُ الْمَزِيدُ هُوَ مَا أُضِيفَ إِلَى حُرُوفِهِ الْأَصْلِيَّةِ حَرْفٌ أَوْ أَكْثَرُ وَيَنْقَسِمُ إِلَى قِسْمَيْنِ :

المَزِيدُ عَلَى الثَّلَاثِي وَالْمَزِيدُ عَلَى الرَّبَاعِي .

أوزان الفعل الثلاثي المزيد		
مزيد بحرف واحد	مزيد بحرفين	مزيد بثلاثة أحرف
فَعَّلَ - فَاعَلَ - أَفْعَلَ	تَفَعَّلَ - تَفَاعَلَ - انْفَعَلَ - أَفْعَلَ - افْتَعَلَ	اسْتَفْعَلَ - أَفْعَوْعَلَ -أَفْعَوْلَ

الفعل الثلاثي المزيد على وزن فَعَّلَ :

الفعل الثلاثي المزيد على وزن فَعَّلَ هو الفعل الذي نزيد فيه حرف من جنس عينه وهو ما يعرف بالتضعيف . مثل : عَلَّمَ - كَسَّرَ ...

الفعل الثلاثي المزيد على وزن أَفْعَلَ :

الفعل الثلاثي المزيد على وزن أَفْعَلَ هو الذي نزيد الهمزة في أوله مثل : أَكْرَمَ - أَحْسَنَ

الثلاثي المزيد بحرفين انْفَعَلَ :

انْفَعَلَ : مزيد بالهمزة والتون في أوله ، و أكثر ما يأتي مطاوعا للفِعْلِ فَعَّلَ .

فانْتَصَرَ تعني نَصَرَ نَفْسَهُ ، وانْكَسَرَ تعني كَسَرَ نَفْسَهُ .

ولا تأتي صيغة انْفَعَلَ إلا لزأماً مثل انْكَسَرَ الرَّجَاجُ .



علم الأحياء

محور التنفس : أعضاء التنفس لدى بعض الحيوانات

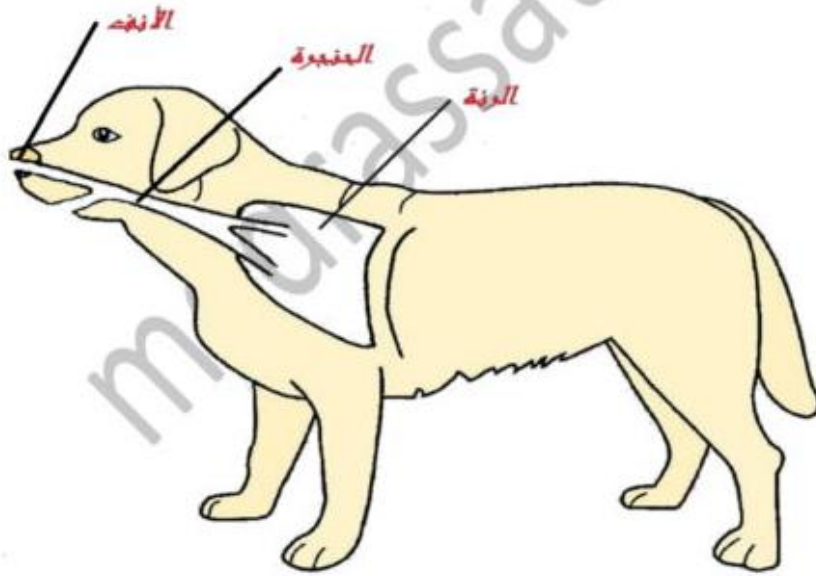
الهدف : تبين أعضاء التنفس لدى بعض الحيوانات

تحتاج الحيوانات إلى الأكسجين لتمكن من البقاء على قيد الحياة، لذلك فهي تنفس، ويتم التنفس عبر نقل الأكسجين ، من خارج الجسم إلى الخلايا في أنسجة الجسم . وتختلف عملية التنفس عند الحيوانات حسب الوسط الذي تعيش فيه فنجد حيوانات تنفس في الهواء وحيوانات تنفس في الماء وحيوانات تنفس في الهواء والماء .

التنفس في الهواء (البر) :

التنفس عن طريق الرئتين :

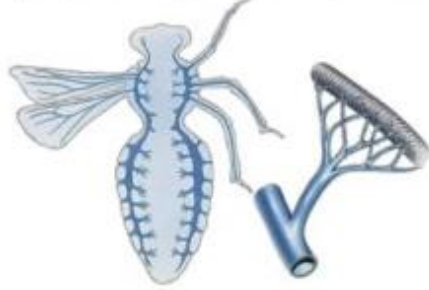
بالنسبة للحيوانات التي تنفس عبر الرئتين فهناك اختلاف في شكلهما وحجمهما من حيوان لآخر، إلا أنهما تعملان بنفس الطريقة . عند الشهيق يندفع الهواء الغني بالأكسجين إلى الأنف وعند الزفير يخرج الهواء الذي يحتوي على ثاني أكسيد الكربون من الرئتين باتجاه الأنف ومنه لخارج الجسم.



ملاحظة : هناك حيوانات تنفس عن طريق الرئتين ولكنها تعيش في الماء
مثال : الدلفين وسلحفاة البحر .


التنفس عن طريق القصبات الهوائية :

تتنفس الحشرات عن طريق القصبة الهوائية وهي عبارة عن أنابيب صغيرة جدا تتصل هذه الأنابيب بفتحات خارجية تمتد على طول صدر وبطن الحشرة، مما يسمح لها بتبادل الغازات مباشرة بين الهواء الخارجي والقصبات الهوائية.



التنفس في الماء :

تتنفس أغلب الكائنات التي تعيش في الماء عن طريق الغلاصم مثال السمكة . يدخل أكسجين الماء على مستوى الغلاصم ثم يتوجه إلى مختل أعضاء السمكة عن طريق الدورة الدموية . وبالمقابل تطرح أعضاء السمكة ثاني أكسيد الكربون ويتوجه إلى الغلاصم وي طرح خارج الجسم



التنفس في الهواء والماء

تسمى الحيوانات التي تتنفس في الماء والهواء حيوانات برمائية كالضفدع مثلا .

يتنفس الضفدع بطريقتين مختلفتين . عندما يكون الضفدع تحت الماء يتنفس باستخدام جلده، الذي يتكون من أنسجة غشائية رقيقة فيها فتحات دقيقة قادرة على امتصاص الأكسجين. وعندما يكون الضفدع في البر يتنفس باستخدام رئتيه.



التمرين عدد 1 :

كيف يتنفس العنكبوت المائي تحت الماء ؟ وما هي أعضاء التنفس عنده ؟

.....

التمرين عدد 2 :

ما هو نمط تنفس الدلفين ؟

.....

التمرين عدد 3 :

أجيب بنعم أو لا :

تتنفس الضفدعة بواسطة الرئتين فقط

تتنفس الحيوانات البحرية بواسطة الرئتين

يتنفس الدلفين بواسطة الغلاصم

الحنجرة تستقبل مرور الهواء من الرئة لإصدار الأصوات المختلفة

القصبه الهوائية تمثل العنصر الوحيد في التنفس

التمرين عدد 4 :

مالفرق بين رئتي الطيور والثدييات ؟

.....

التمرين عدد 5 :

أجيب بنعم أو لا مدعماً جوابك :

كل الحيوانات البحرية تتنفس بالغلاصم.....

ذيل السمكة هو عبارة عن زعنفة كبيرة الحجم.....

السمكة تتنفس الهواء النقي.....

السمكة لا تتنفس بفمها.....

الإصلاح :

التمرين عدد 1 :

كيف يتنفس العنكبوت المائي تحت الماء ؟ وما هي أعضاء التنفس عنده ؟
العنكبوت المائي يتنفس تحت الماء بواسطة فقاعات هوائية كبيرة ملتصقة بجسمه .
وتوجد فقاعات صغيرة من الهواء حول شعيرات جسم العنكبوت توفر مصدرا إضافيا للهواء .

التمرين عدد 2 :

ما هو نمط تنفس الدلفين ؟

يتنفس الدلفين بواسطة الرئتين

التمرين عدد 3 :

أجيب بنعم أو لا :

تتنفس الضفدعة بواسطة الرئتين فقط . لا

تتنفس الحيوانات البحرية بواسطة الرئتين . لا

يتنفس الدلفين بواسطة الغلاصم . لا

الحنجرة تستقبل مرور الهواء من الرئة لإصدار الأصوات المختلفة. نعم

القصبه الهوائية تمثل العنصر الوحيد في التنفس . لا

التمرين عدد 4 :

ما الفرق بين رئتي الطيور والثدييات ؟

الفرق بين رئتي الطيور والثدييات هو :

رئتي الطيور لا تحتوي على حويصلات هوائية بل شعيرات دموية ، اتصال عدد من الأكياس

الهوائية برئتي الطائر تساعده على التنفس أثناء الطيران .

التمرين عدد 5 :

أجيب بنعم أو لا:

كل الحيوانات البحرية تتنفس بالغلاصم . لا

ذيل السمكة هو عبارة عن زعنفة كبيرة الحجم . نعم

السمكة تتنفس الهواء النقي . لا

السمكة لا تتنفس بفمها . لا

أشطب الخطأ



الأسد حيوان عاشب - الأسد حيوان لائح-

الأسد حيوان بري - الأسد حيوان أليف -

الأسد يتنقل في الجو

الأسد يتنقل في البر - الأسد يتنقل سباحة

أكمل

الأسد حيوان يعيش في

ويتغذى على

..... ويتنقل

أو

أذكر حيوانا برياً وعاشباً

أذكر حيوانا بریا ولاحما

أشطب الخطأ



الخروف حيوان بري - الخروف حيوان أليف

- الخروف يعيش في الغابة - الخروف يتنقل طيرانا

- الخروف حيوان عاشب -

أكمل

الخروف حيوان يعيش في

..... ويتغذى على ويتنقل

.....

أذكر حيوانا أليفا وعاشبا

أذكر حيوانا أليفا ولاحما

أكمل

اليوم = ساعة.....

الساعة = دقيقة.....

الدقيقة = ثانية.....



..... الساعة



..... الساعة



..... الساعة



..... الساعة





رياضيات

رياضيات السنة الرابعة أتعرف القسمة الإقليدية

تتكوّن القسمة الإقليدية من قاسم ومقسوم وخارج القسمة والباقي حيث أن الباقي يكون أصغر من القاسم .

مثال

$$\begin{array}{r}
 350 \\
 - 32 \\
 \hline
 30 \\
 - 24 \\
 \hline
 6
 \end{array}$$

المقسوم

القاسم

خارج القسمة

الباقي

التمرين عدد 1 :

بمناسبة عيد ميلاد سلمى شرت الأم 287 قطعة من الحلوى وقسمتها في أكياس كل كيس يحتوي على 6 قطع .
أ) ما هو عدد أكياس الحلوى ؟

ب) كم بقي من الحلوى دون أكياس ؟

التمرين عدد 2 :

أكمل فراغات الجدول التالي :

المقسوم	القاسم	خارج القسمة	الباقى
406	8	.	.
.	5	44	1
458	.	65	3
.	6	32	4

التمرين عدد 3 :

يملك العم محمود مدجنة صغيرة توفّر له 110 بيضة يوميا .
أ) كم عدد البيض الذي يتحصّل عليه كلّ أسبوع ؟

بعد جمع كلّ البيض لمدّ أسبوع أراد تصفيها في علب تحتوي كلّ واحدة
على 8 بيضات ؟

ب) كم من علبة يستطيع العم محمود أن يبيعهها ؟

ج) كم من بيضة تبقيت له ؟

التمرين عدد 4 :

أبحث عن المقسوم في القسم الإقليدية التي يكون خارج القسمة فيها يساوي 15
والقاسم يساوي 6 أما الباقي فيساوي 4 .

التمرين عدد 5 :

نظمت مدرستنا رحلة إلى مدينة قليبية شارك فيها 195 تلميذ و 8 معلمون
ووقع تقسيمهم إلى مجموعات متساوية حيث أنّ كلّ معلم يهتم بمجموعة ، ما عدا
المعلم السيد أيمن فمجموعته تفوق مجموعات باقي المعلمين .
أ) ما هو عدد مجموعة باقي المعلمين ؟

ب) ما هو عدد مجموعة المعلم السيد أيمن ؟

الإصلاح

التمرين عدد 1 :

$$287 = 6 : 47 \text{ والباقي } 5$$

عدد أكياس الحلوى = 47

بقي من الحلوى دون أكياس 5 قطع حلوى

التمرين عدد 2 :

أكمل فراغات الجدول التالي :

المقسوم	القاسم	خارج القسمة	الباقي
406	8	50	6
221	5	44	1
458	7	65	3
196	6	32	4

التمرين عدد 3 :

عدد البيض الذي يتحصل عليه كل أسبوع :

$$110 \times 7 = 770 \text{ بيضة}$$

عدد العلب التي يستطيع العمّ محمود أن يبيعها :

$$770 : 8 = 96 \text{ والباقي } 2 \text{ بيضتان .}$$

التمرين عدد 4 :

أبحث عن المقسوم في القسم الإقليدية التي يكون خارج القسمة فيها يساوي 15

والقاسم يساوي 6 أما الباقي فيساوي 4 . المقسوم هو 94

التمرين عدد 5 :

$$195 : 8 = 24 \text{ والباقي } 3$$

عدد مجموعة باقي المعلمين = 24 تلميذا

عدد مجموعة المعلم السيد أيمن :

$$24 + 3 = 27 \text{ تلميذا}$$



conjugaison

Le présent

Etre	Avoir	Aller
Je suis	J' ai	Je vais
Tu es	Tu as	Tu vas
Il est	Il a	Il va
Elle est	Elle a	Elle va
Nous sommes	Nous avons	Nous allons
Vous êtes	Vous avez	Vous allez
Ils sont	Ils ont	Ils vont
Elles sont	Elles ont	Elles vont

Marcher	Manger	Lancer
Je marche <u>e</u>	Je mange <u>e</u>	Je lance <u>e</u>
Tu marches <u>es</u>	Tu manges <u>es</u>	Tu lances <u>es</u>
Il marche <u>e</u>	Il mange <u>e</u>	Il lance <u>e</u>
Elle marche <u>e</u>	Elle mange <u>e</u>	Elle lance <u>e</u>
Nous march <u>ons</u>	Nous mang <u>eons</u>	Nous lanç <u>ons</u>
Vous march <u>ez</u>	Vous mang <u>ez</u>	Vous lanc <u>ez</u>
Ils march <u>ent</u>	Ils mang <u>ent</u>	Ils lanc <u>ent</u>
Elles march <u>ent</u>	Elles mang <u>ent</u>	Elles lanc <u>ent</u>

J'apprends à employer des adjectifs (rôle et place)

Les adjectifs

Les adjectifs donnent des précisions sur les noms : garçon, cachette et armoire.

L'adjectif peut-être placé :

- *avant le nom → le **petit** garçon.
 Une **bonne** cachette
 *après le nom → l'armoire **blanche**.

Orthographe

L'habit d'Arlequin

Philippe n'a pas de vêtement amusant pour le carnaval.

Sa maman a une bonne idée.

Avec de petits morceaux de tissu de couleur, elle cou pour son fils un habit d'Arlequin.

Le matin du carnaval, Philippe met sa jolie tenue : il est drôle.



J'apprends à conjuguer le verbe « mettre » au présent

Au présent, le verbe « mettre » se conjugue ainsi :

Personnes	Singuliers	Pluriel
Première	Je met <u>s</u>	Nous mett <u>ons</u>
Deuxième	Tu met <u>s</u>	Vous mett <u>ez</u>
Troisième	Il / elle met <u>t</u>	Ils/ elles mett <u>ent</u>



مدرسة صغيرة

مدرستنا

4^{ème}

Année



Quoi de neuf
à la télé



Module

8

Comment faire de la télé une amie?

Quelques pistes pour établir des règles de base :

Tels programmes sont permis, tels autres non.

- ✚ La télé n'est pas autorisée le matin.
- ✚ Les enfants n'ont pas le droit de regarder la télé pendant plus de 45 minutes.
- ✚ Les enfants n'ont pas le droit d'allumer seuls la télé sans qu'ils aient à demander l'autorisation des adultes.
- ✚ Avec les petits enfants, les parents appliquent les règles, avec les plus grands qui ont plus de liberté, c'est à eux de les respecter.

Montrer l'exemple :

Si vous voulez que l'enfant respecte les règles fixées pour lui, il vous faudra bien entendu montrer l'exemple.

Faire respecter les règles :

Lorsque l'enfant réclame la télé à un moment où il n'est pas autorisé à la regarder, expliquez-lui à nouveau les règles que vous avez fixées, puis proposez-lui une autre activité : lire une histoire, aller jouer dehors, faire un coloriage...

مدرسة صغيرة



Salut, je m'appelle Lylia , je viens de la Tunisie , j'ai 11 ans, j'aime la musique, les jeux vidéo, les magazines de stars, j'aime regarder la télévision, et des fois, lire.

مدرستنا



Mes matières préférées sont : Le français , les mathématiques, et les sciences physiques.
Mes stars préférées sont Jennifer Lopez et Maria Carey.
Plus tard j'aimerais être soit pédiatre soit esthéticienne.

Un document sur l'importance de la télé :

- ✚ La télévision est devenue l'une des sources d'informations les plus importantes.
- ✚ Elle est utilisée par tout le monde pour communiquer ou pour s'informer de tout ce qui se passe autour de nous.
- ✚ Elle peut également être utilisée pour des besoins éducatifs, pour se renseigner et se divertir...

Les inconvénients de cette technologie sont:

Les gens peuvent rester devant la télévision pendant des heures,
Tu ne fais pas de sports, Tu ne joues plus de jeux de société.

Télévision

Ta **parole** est nos **opinions** .
 Tes **images** sont notre **imaginaire**.
 Tes **mensonges** sont nos **vérités**.
 Tes **réponses** sont nos **questions**.
 Ton **vide** est notre **plein**.



La télé est polluante à fabriquer, polluante à faire fonctionner, puis polluante comme déchet, mais c'est surtout une extraordinaire machine à laver le cerveau. La semaine internationale sans télévision, c'est une bonne occasion de se libérer de cette drogue. Les Français la regardent en moyenne 3 h 30 par jour ! Et si tout simplement, à la place, on vivait ?

Masque du carnaval pour le déguisement des enfants :

Masques à fabriquer pour le carnaval

Que serait le carnaval sans masques ?

Entre les masques en papier faciles à réaliser et les masques à colorier, on peut réaliser des dizaines de masques pour les enfants de 3 à 15 ans. Plus de 100 idées de masques pour se déguiser pour le carnaval ou les fêtes d'enfants.

Des masques :



Un buffle



une girafe



un âne



Une coccinelle




un corbeau



une grenouille



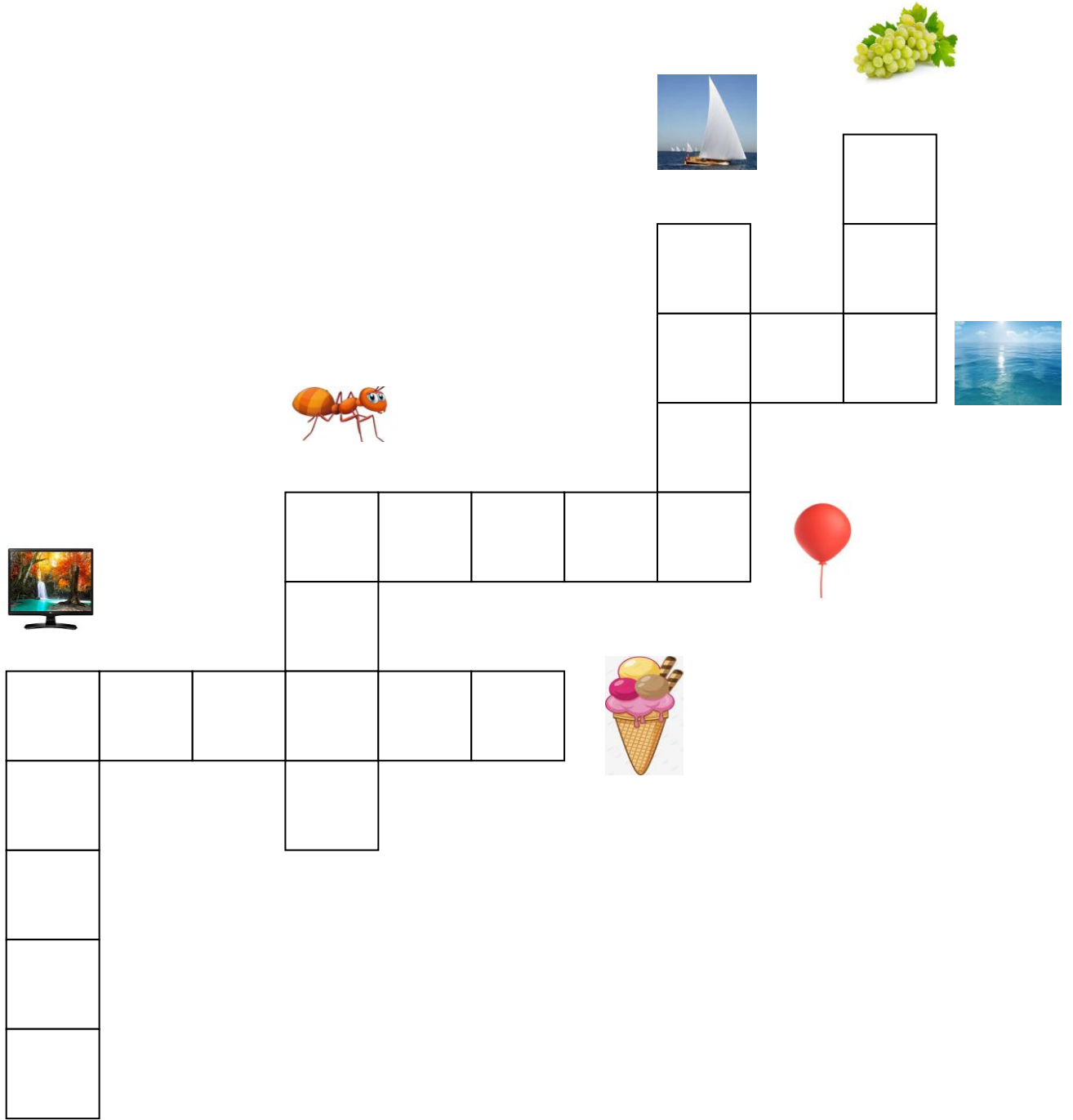
ارسم مشهدا من مشاهد النص في الإطار الفارغ



ألون



الكلمات المتقاطعة



عنب - مثلجات - نملة - بالون - مركب - بحر - تلفاز



لعبة المتاهة

