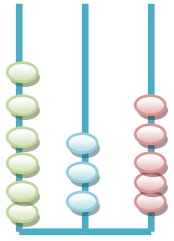
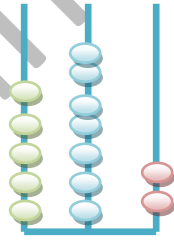
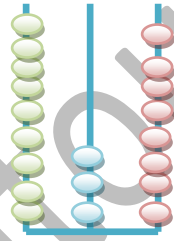
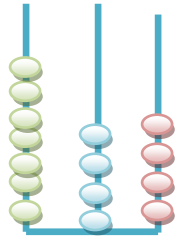


رياضيات السنة الثانية قراءة وكتابة وتمثيل الأعداد من 500 إلى 999

1 (أكتب بين قوسين الأعداد بالأرقام .

بمناسبة عيد الأمهات قرّر الأطفال شراء هديّة لأمّهم فساهم رامي بثمانمائة وخمسة وستّون ملّيم (.....)، وسحب خالد من حصّالته ستّمائة و أربعة وعشرون ملّيم (.....) أما زينب فقدّمت تسعمائة وسبعون ملّيم (.....).

2 (أكتب الأعداد التّالية :



.....

.....

.....

.....

3 (أمثّل الأعداد على المعداد



780



593



642



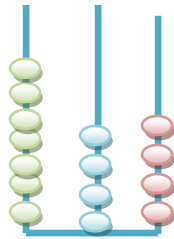
875

الإصلاح:

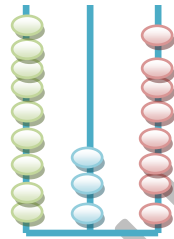
1) أكتب بين قوسين الأعداد بالأرقام .

بمناسبة عيد الأمهات قرّر الأطفال شراء هديّة لأمّهم فساهم رامي بثمانمائة وخمسة وستّون مليّم (865)، وسحب خالد من حصّالته ستمائة و أربعة وعشرون مليّم (624) أما زينب فقدّمت تسعمائة وسبعون مليّم (970).

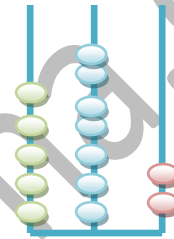
2) أكتب الأعداد التّالية :



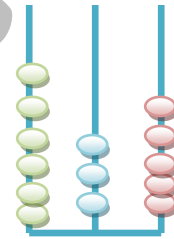
744



938

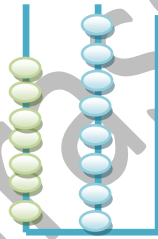


572

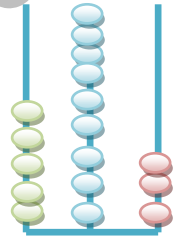


635

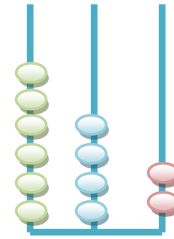
3) أمثّل الأعداد على المعداد



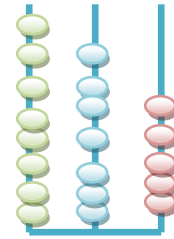
780



593



642



875