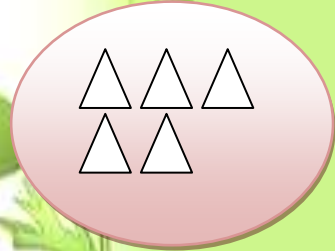
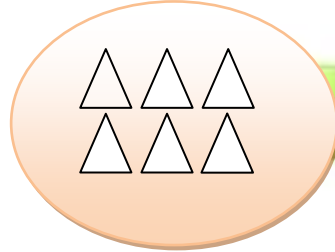
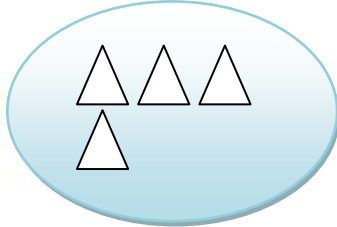

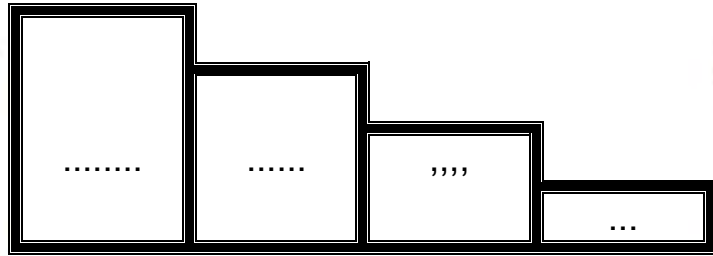


ستى مروى

أحسب كم كل مجموعة



أرتب الأعداد التي تحصلت عليها تصاعديا



أكتب الأعداد التالية مرتبة تنازليا في دودة الأرقام

10 - 7 - 9 - 6 - 8

5 - 1 - 4 - 2 - 3

