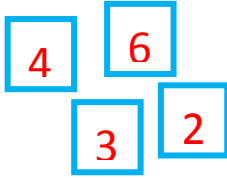


المادة: رياضيات المستوى: السنة الأولى  
الأعداد ذات رقمين: قراءة وكتابة وتمثيلا  
المرية: شادية السلطاني



**السند:** كَتَبَ بَلِيغٌ أَرْقَامًا عَلَى بِطَاقَاتٍ وَطَلَبَ مِنْ رَضْوَانَ تَكْوِينَ أَعْدَادٍ ذَاتِ رَقْمَيْنِ بِتِلْكَ الْأَرْقَامِ.

مَا هِيَ الْأَعْدَادُ الَّتِي يُمَكِّنُ أَنْ يُكَوِّنَهَا رَضْوَانٌ؟

← يُمَكِّنُ لِرَضْوَانَ تَكْوِينَ الْأَعْدَادِ التَّالِيَةِ: 36 / 62 / 46 / 34 / 32 / 23 ...

→ هَذِهِ أَعْدَادٌ ذَاتِ رَقْمَيْنِ تُكْتَبُ وَتُقْرَأُ مِنَ الْيَمِينِ إِلَى الْيَسَارِ أَيْ رَقْمَ الْأَحَادِ

ثُمَّ رَقْمَ الْعَشَرَاتِ.

مِثَال: ثَلَاثَةٌ وَعِشْرُونَ / سِتَّةٌ وَأَرْبَعُونَ / اثْنَانِ وَثَلَاثُونَ ...

عَشَرَاتٌ	أَحَادٌ
2	3
4	6
3	2

**التعليمية 1:** اَكْتُبْ كُلَّ عَدَدٍ بِالْأَرْقَامِ أَوْ بِالْحُرُوفِ أَفْرُوهُ.

--	--	--	--

27

45

52

33

--

92

أَرْبَعَةٌ وَتِسْعُونَ

....

--

77

سِتَّةٌ وَسِتُّونَ

....

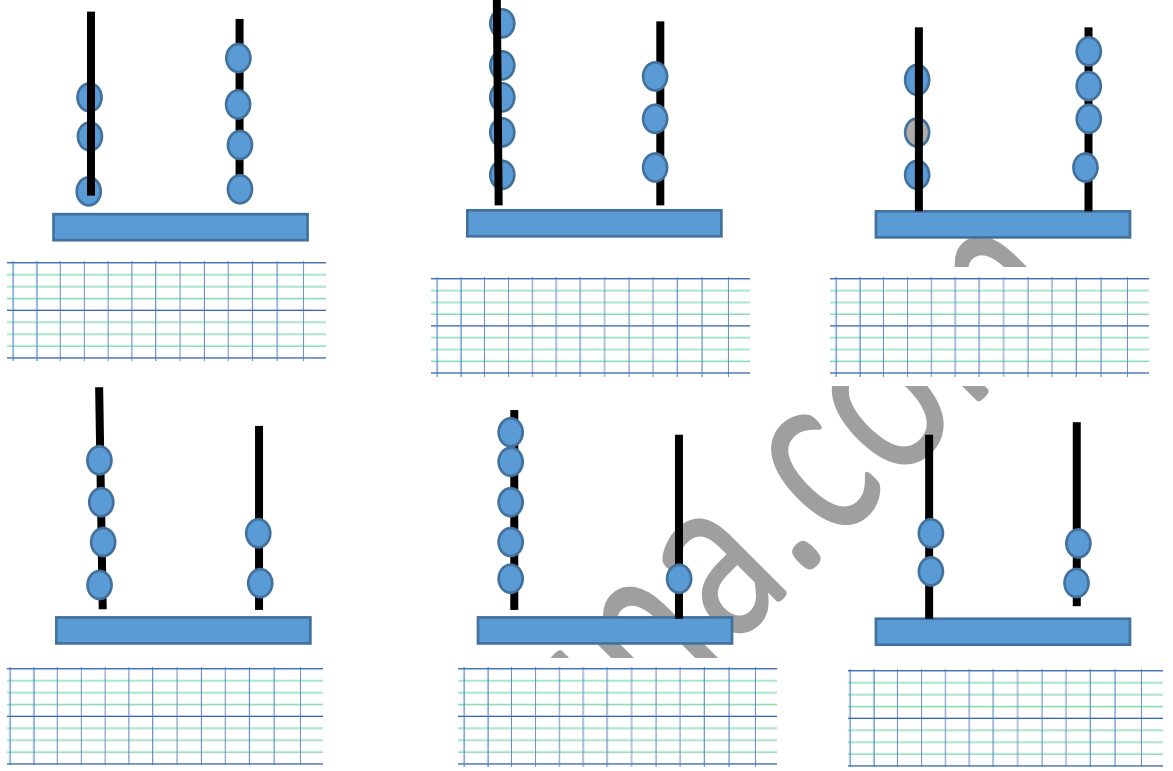
....

ثَلَاثَةٌ وَسَبْعُونَ

....

سَبْعَةٌ وَثَمَانُونَ

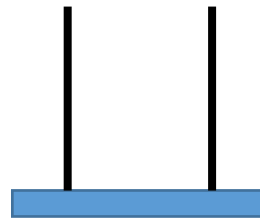
## التعليمة 2: اكتب الأعداد التالية بالأرقام والحروف.



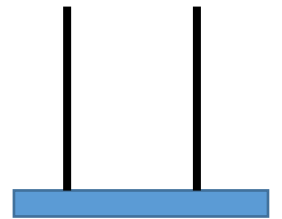
## التعليمة 3: أمثل الأعداد التالية على المعداد.



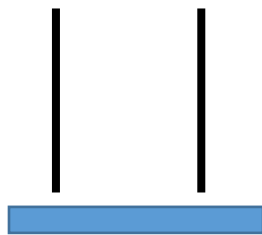
92



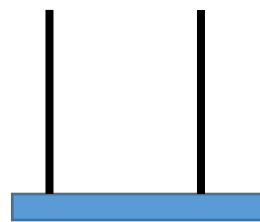
73



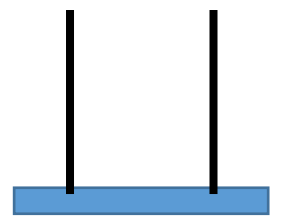
25



49



58



21