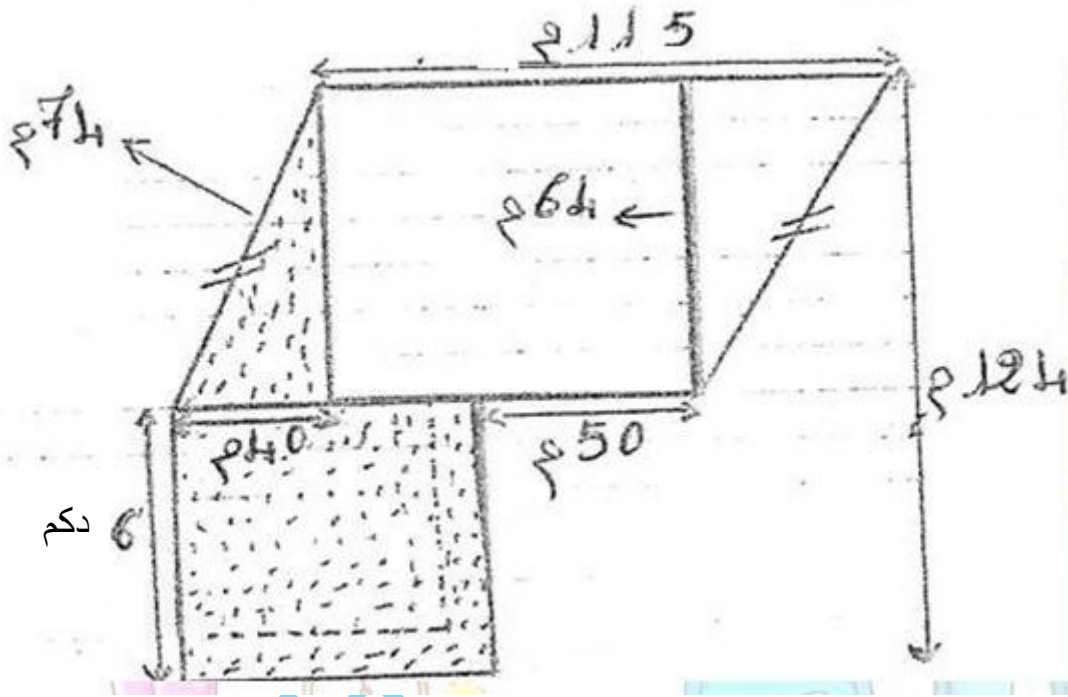


تقييم مكتسبات التلميذ في مادة الرياضيات السنة السادسة

السند عدد 1 :

للأخوين أحمد ومريم قطعة الأرض المرسومة أسفله حسب السلم 1000/1



أبحث عن قيس المحيط الحقيقي لقطعة الأرض

.....

.....

.....

.....

.....

.....

السند عدد 2 :

اقتسم الأخوان قطعة الأرض بالتساوي فأخذت مريم القطعتين المنقطتين مع مبلغ مالي قدره 46 640 د .

1 - أحسب قيس مساحة قطعتي أرض أحمد :

.....

1 مع

2 مع

3 مع

1 مع

2 - أحسب قيس مساحة قطعتي أرض مريم :

مع 2

--	--

3 - ما هو ثمن المتر المربع الواحد ؟

مع 1

--	--

السند عدد 3 :

اتفق أحمد ومريم على تسييج أرضيهما معا بسياج حديدي يباع لفائف ، طول اللّفة الواحدة 4.5 دكم بسعر قدره 30.000 د الليفة الواحدة .

مع 2

--	--

- أبحث عن كلفة السياج لو علمت أن كل واحد ترك مدخلا طوله بالمتر 4.5 ، وأنهما شغلا 3 عمال مقابل 27.5 د عن اليوم الواحد لكل عامل و لمدة 24 يوما ، كما صنعا بايين ثمن الواحد يمثل 25 % من أجرة العمال .

مع 5

--	--

1 - أبحث عن طول السياج :

2 - ما هي الكلفة الجمالية للسياج ؟

مع 1

--	--

مع 2

--	--

السند عدد 4 :

بعد فترة أنتجت أشجار الزيتون المغروسة في أرض أحمد معدل 2720 كغ من حب الزيتون .

مع 3

--	--

باع 5/1 الصابة وعصر 3/4 الصابة أيضا ثم ملّح الكمية الباقية

1 - ابحث عن كمية الزيتون المتبقية بطريقتين مختلفتين بالقنطار

مع 5

--	--

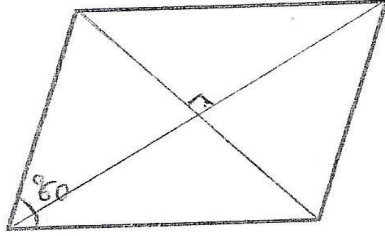
.....

مع 3

السند عدد 5 :


يوضع حب الزيتون في المعصرة قبل تحويله زيتا في أحواض مبنية مختلفة الأشكال وفق الرسوم التالية :

مع 5



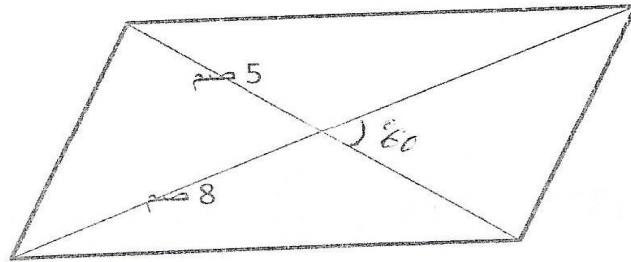
5 صم

3 صم



7 صم

مع 4



مع 4

أبني رسوما مصغرة لهذه الأحواض حسب المعطيات المذكورة .

مع 4

جدول إسناد الأعداد

مع 5		مع 4		مع 3		مع 2			مع 1			المعايير
												مستويات التملك
		0		0		0			0			-- -
1.5	1.5	0.5	0.5	1.5	1	0.5	1.5	1	0.5			-- +
						2.5	2	2.5	2			
1		1		1		3			3			- + +
4		1.5		1.5		4.5	4	3.5	4.5	4	3.5	+ + +