


تقييم الفترة 4 رياضيات السنة الأولى



السند 1: يَوْمَ الْأَحَدِ ذَهَبَ صَائِرٌ مَعَ أُمِّهِ إِلَى السُّوقِ لِشَرِّ مَا تَحْتَاجُهُ الْعَائِلَةُ مِنْ خُضَرٍ وَغِلَالٍ طَازِجَةٍ.
التعليمة 1: أَكْتُبُ عَدَدَ عَنَاصِرِ كُلِّ مَجْمُوعَةٍ.

مع 1



مع 2 ب

التعليمة 2: أَحْسِبُ عَدَدَ عَنَاصِرِ مَجْمُوعَتِي الْغِلَالِ.

..... = +


مع 2 أ

التعليمة 3: أُرَتِّبُ أَعْدَادَ الْعَمَلِيَّةِ تَنَازُلِيًّا بِاسْتِعْمَالِ عِلَامَةِ مُقَارَنَةِ

.....

التعليمة 4: أَكْتُبُ عَدَدَ عَنَاصِرِ كُلِّ مَجْمُوعَةٍ فِي لَافِتَةٍ.

مع 1



مع 2 ب

التعليمة 5: أَحْسِبُ عَدَدَ عَنَاصِرِ مَجْمُوعَتِي الْخُضَرِ.

$$\dots\dots\dots = \dots\dots + \dots\dots$$

التعليمة 6: أرتب أعداد العملية تصاعدياً باستعمال علامة مقارنة.

مع 2 أ

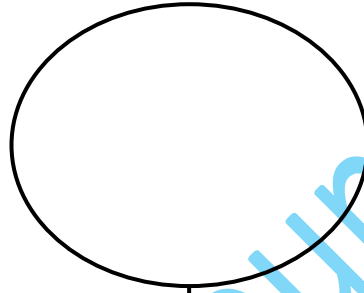
.....



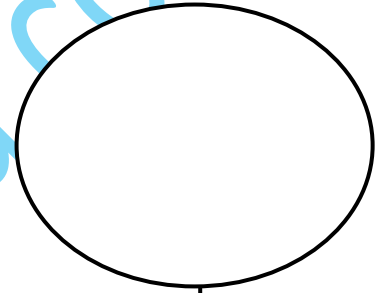
السند 2: في طريق العودة إلى المنزل شري صاير
الورود الصفراء (3) والحمراء (6) ليهديا لآبيه في عيد

التعليمة 1: أرسم الأزهار التي اشتراها عطاء.

مع 1



3



6

التعليمة 2: أحسب عدد الأزهار الصفراء والحمراء.

مع 2 ب

$$\dots\dots\dots = \dots\dots + \dots\dots$$

التعليمة 3: أرتب أعداد العملية تنازلياً باستعمال علامة مقارنة.

مع 2 أ

.....

التعليمة 4: أحسب ثمن شراء الأزهار.



التعليمة 5: أمثل المبلغ بأقل عدد ممكن من القطع النقدية.

مع 3

.....

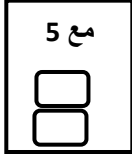


التعليمة 6: أَكْمِلْ تَمْثِيلَ الْمَبْلَغِ الَّذِي بَقِيَ لِصَايِرٍ (مِي).

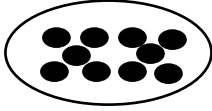


السند3: وَصَلَ صَايِرٌ إِلَى الْمَنْزِلِ، فَوَجَدَ أَخَاهُ الصَّغِيرَ يَلْعَبُ بِالْكُجَاتِ فَسَاعَدَهُ عَلَى تَجْمِيعِهَا .

التعليمة 1: أَتأملُ الْجَدْوَلَ وَأرْسُمُ الكُجَاتِ.



عَشْرَاتٌ



1

آحَادٌ



5

جدول إسناد الأعداد

معيَار التميِز	معايير الحد الأدنى					حساب ذهني
	مع 3	مع 2 ب	مع 2 أ	مع 1	مع 5	
0	0	0	0	0	0	- - -
1ع	1	1	1.5	0.25	0.5	- - +
2	2	2	3	0.5	1.5	- ++
2ع 2	3	3	4.5	1.5	1.5	+++

