




امتحان الثلاثي الثاني في الحساب الذهني

التعليمة 1: اكتب العدد بالأرقام والحروف.



العدد الذي يلي مباشرة 9:



العدد الذي يسبق مباشرة 14:

التعليمة 2: أبحث عن النتيجة.

$$..... = 4 + 5$$



.....

=



+

