

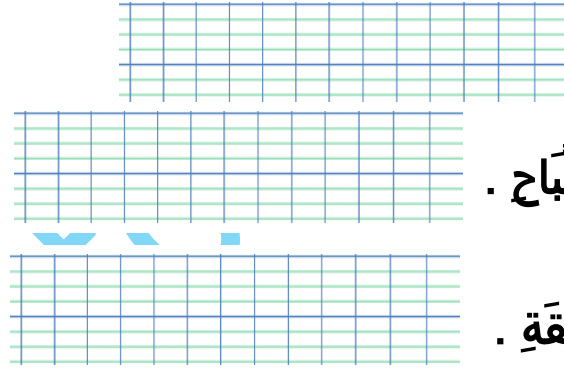


تقييم مكتسبات التلميذ خلال  
نهاية الثلاثي الثاني  
السنة الأولى مادة الإيقاظ العلمي

السبند 1: يَوْمَ الْعُطْلَةِ قَامَتِ الطِّفْلَةُ زَيْنُ بِأَكْرًا تَتَاوَلَتْ فَطُورَ الصَّبَاحِ الصَّحِيَّ،



بَعْدَ ذَلِكَ ذَهَبَتْ مَعَ حَازِمٍ إِلَى صَيْعَةِ جَدِّهَا.

التعلیمة 1: اكتبُ أمامَ كُلِّ جُمْلَةٍ نَشَاطٌ لَيْلِيٌّ نَشَاطٌ نَهَارِيٌّ



- نَامَتْ زَيْنُ

- تَتَاوَلُ فَطُورَ الصَّبَاحِ .

- اللَّعِبُ فِي الْحَدِيقَةِ .

التعلیمة 2: أَرَبِّطُ بِالتَّعْلِيلِ الْمُنَاسِبِ:

- تَتَاوَلَتْ زَيْنُ طَعَامًا صَحِيًّا.

- غَسَلَتْ زَيْنُ أَطْرَافَهَا.

- نَظَّفَتْ زَيْنُ أَسْنَانَهَا.

• لِتَحَافِظَ عَلَى نَظَافَةِ جِسْمِهَا.

• لِيَكْتَسِبَ جِسْمُهَا مَنَاعَةً.

• لِتَحَافِظَ عَلَى سَلَامَةِ أَسْنَانِهَا.


السبند 2: عَادَتْ زَيْنُ بِسُرْعَةٍ إِلَى الْمَنْزِلِ مَعَ حَازِمٍ مُنْشَرِحَةً، فَوَصَلَتْ قَبْلَهُ،

وَحَكَتْ لِأَيِّهَا مَا رَأَتْهُ فِي صَيْعَةِ جَدِّهَا.



## التعلیمة 1: أَشْطَبُ الْخَطَأُ.

- لِلْعَوْدَةِ إِلَى الْمَنْزِلِ اسْتُغْرَقَتْ زَيْنَبُ مَدَّةً زَمْنِيَّةً أَطْوَلَ مَدَّةً زَمْنِيَّةً أَقْصَرَ مِنْ حَازِمٍ.





- الْأَبُّ أَطْوَلُ أَقْصَرُ مِنْ زَيْنَبَ.


- زَيْنَبُ أَكْبَرُ أَصْغَرُ مِنْ أَبِيهَا.

## التعلیمة 2: أَصْلِحُ الْخَطَأُ.


- يَنْمُو الْخُرُوفُ فَيَزْدَادُ وَبِرَّهُ.



- تَكْبُرُ الطِّفْلَةُ زَيْنَبُ فَتُصِيحُ مُبَاشَرَةً عَجُوزًا.



- الْكَبْشُ أَخْفُ مِنَ الْحَمَلِ.



## جدول إسناد الأعداد

معیار التمییز	معايير الحد الأدنى			
	مع 2 ج	مع 2 ب	مع 1	
مع 3 16 2	0	0	0	...
مع 2ع 1.5	1.5	1.5	2	- - +
مع 3ع 1.5	3	3	4	- ++
مع 3ع 1.5	4.5	4.5	6	+++

