

## وضعيات في مادة الرياضيات السنة الثالثة الثلاثي الثاني

1- أحول إلى المتر

\* 2 هم ونصف = .....م

\* 3 هم ونصف = .....م

\* 5 هم و نصف دكم = .....م

\* 4 هم و 7 دكم = .....م

\* 1 هم و 2 دكم = .....م

\* 6 هم وضعف دكم = .....م

2 - شرت نور من الكتبيّة حامل أوراق بـ 3650 مي و مقلمة ثمنها يقلّ عن ثمن

حامل الأوراق بـ 1320 مي .

أحسب ثمن المقلمة بالمي :

.....

ب) أحسب ما أنفقته نور لشراء حامل الأوراق والمقلمة بالمي

.....

.....

3 - كسّر رامي حصالته فوجد 2720 مي وتملك أخته سلمى 275 مي أقل من

المبلغ الذي صار يملكه رامي.

ما هو المبلغ الذي تملكه سلمى ؟

.....

.....

أمثله بأقلّ ما يمكن من القطع النقديّة

جمع الولدان نقودهما . ماهو المبلغ الذي صار عندهما ؟

.....

.....

أمثل المبلغ بأقل ما يمكن من القطع النقدية

4 - أنجز العمليات التالية ذهنيا :

$$\dots\dots = 2 \times 5$$

$$\dots\dots = 7 \times 2$$

$$\dots\dots = 5 \times 4$$

$$\dots\dots = 6 \times 3$$




$$\dots\dots = 5 \times 3$$

$$\dots\dots = 6 \times 4$$

$$\dots\dots = 3 \times 7$$

$$\dots\dots = 6 \times 1$$

5 - أكمل رسم الزوايا في الجدول التالي:

زاوية منفرجة	زاوية حادة	زاوية قائمة
		

6 - 4 - أنجز العمليّات التّالية :

$$\begin{array}{r} \times \\ \hline = \end{array}$$

$$\begin{array}{r} \times \\ \hline = \end{array}$$

$$\dots\dots = 5 \times 45$$

$$\dots\dots = 3 \times 72$$

$$\dots\dots = 4 \times 63$$

$$\dots\dots = 2 \times 28$$

$$\begin{array}{r} \times \\ \hline = \end{array}$$

$$\begin{array}{r} \times \\ \hline = \end{array}$$