

تمارين رياضيات السنة الثالثة :

أتعرف فكرة جداء عددين

1 (يملك رامي مجموعة من الأقلام :





أ - أعبر عن عدد أقلام رامي بكتابة جمعية :

.....

ب - أعبر عن عدد أقلام رامي بكتابة ضربية :

.....

2 (وتملك أخته سلمى مجموعة أخرى من الأقلام :





أعبر عن عدد أقلام سلمى بطريقتين مختلفتين :

.....

.....

3) اشترى والد رامي وسلمى تفاحا وبرتقالا :



• أعبّر عن عدد التفاح بكتابتين ضربيتين مختلفتين :

.....
.....

• أعبّر عن عدد البرتقال بكتابتين ضربيتين مختلفتين :

.....
.....

4) أكمل :

..... = 2 X . = 4 X 3

..... = . X 3 = 3 X 6

..... = . + 7 = 7 X 2

..... = . X 5 = 5 X 3

..... = . X 4 = 4 + 4 + 4

..... = . X 5 = 5 + 5

6 = . X 3 = . X 2

8 = . X 4 = . X 2