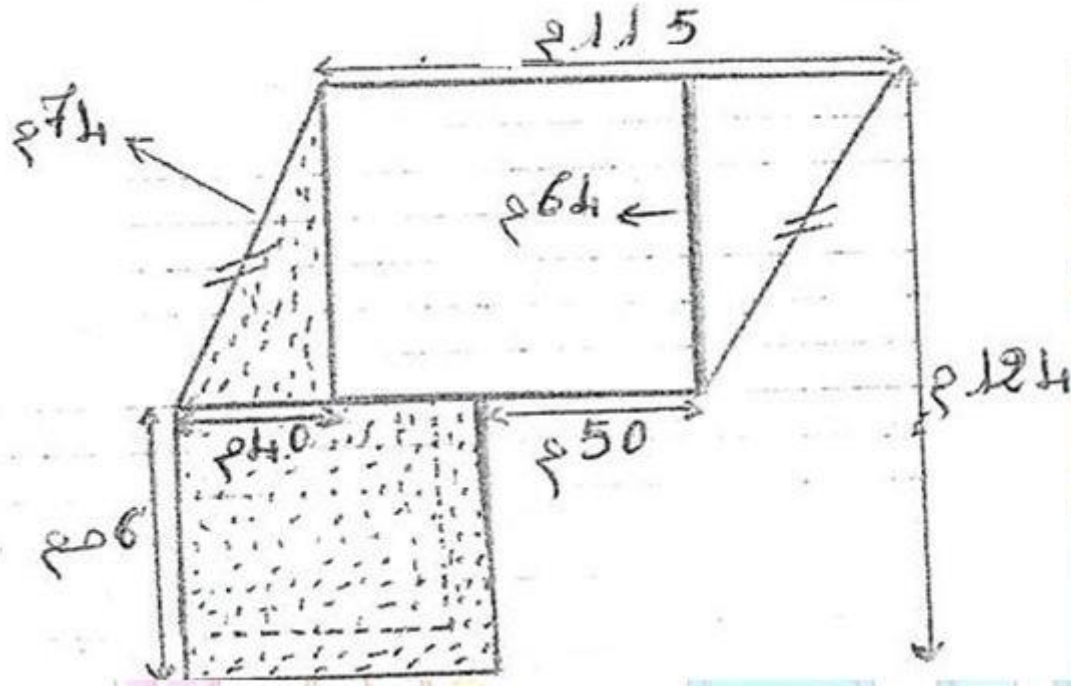


تقييم مكتسبات التلاميذ خلال نهاية الثلاثي الثاني في مادة  
الرياضيات

السند عدد 1 :

للأخوين أحمد ومريم قطعة الأرض المرسومة أسفله حسب السلم 1000/1



أبحث عن قيس المحيط الحقيقي لقطعة الأرض

معد

1

معد

2

معد

3

<http://medrassatouna.com>

السند عدد 2 :

اقتسم الأخوان قطعة الأرض بالتساوي فأخذت مريم القطعتين المنقطتين مع  
مبلغ مالي قدره 46 640 د .



1 - أحسب قيس مساحة قطعتي أرض أحمد :

مع  
1

2 - أحسب قيس مساحة قطعتي أرض مريم :

مع  
2

3 - ما هو ثمن المتر المربع الواحد ؟

مع  
1

السند عدد 3 :

مع  
2

اتفق أحمد ومريم على تسييح أرضيهما معا بسياج حديدي يباع لفائف ، طول اللفة الواحدة 4.5 دكم بسعر قدره 30.000 د الليفة الواحدة .  
- أبحث عن كلفة السياج لو علمت أن كل واحد ترك مدخلا طوله بالمتر 4.5 ،  
وأنهما شغلا 3 عمال مقابل 27.5 د عن اليوم الواحد لكل عامل و لمدة 24 يوما ،  
كما صنعا بايين ثمن الواحد يمثل 25 % من أجرة العمال .

مع  
5

1 - أبحث عن طول السياج :

مع  
1

2 - ما هي الكلفة الجمالية للسياج ؟

مع  
2

<http://medrassatouna.com>

مع  
3

مع  
5



مع  
3

السند عدد 4 :

بعد فترة أنتجت أشجار الزيتون المغروسة في أرض أحمد معدل 2720 كغ من حب الزيتون .

مع  
5

باع 5/1 الصابة وعصر 3/4 الصابة أيضا ثم ملّح الكميّة الباقية  
1 - ابحث عن كمية الزيتون المتبقية بطريقتين مختلفتين بالقنطار

.....

.....

.....

.....

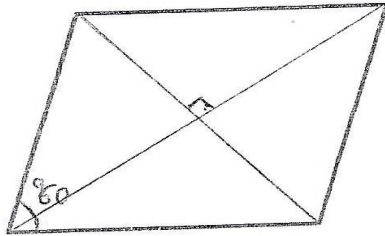
.....

.....

مع  
4


السند عدد 5 :

يوضع حب الزيتون في المعصرة قبل تحويله زيتا في أحواض مبنية مختلفة الأشكال وفق الرسوم التالية :

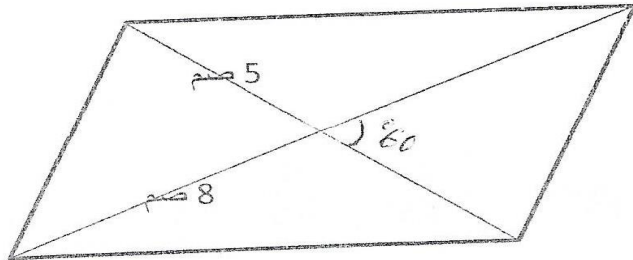
مع  
4

5 سم

3 سم



7 سم

مع  
4

أبني رسوما مصغرة لهذه الأحواض حسب المعطيات المذكورة .





## جدول إسناد الأعداد

مع 5		مع 4		مع 3		مع 2			مع 1			المعايير
		0		0		0			0			مستويات التملك
1.5	1.5	0.5		0.5		1.5	1	0.5	1.5	1	0.5	-- -
						2.5	2		2.5	2		-- +
1		1		1		3			3			- + +
4		1.5		1.5		4.5	4	3.5	4.5	4	3.5	+ + +

