

1 - أحسب قيس مساحة قطعتي أرض أحمد :

مع

1

2 - أحسب قيس مساحة قطعتي أرض مريم :

مع

2

3 - ما هو ثمن المتر المربع الواحد ؟

مع

1

السند عدد 3 :

مع

2

اتفق أحمد ومريم على تسييح أرضيهما معا بسياح حديدي يباع لفائف ، طول اللفة الواحدة 4.5 دكم بسعر قدره 30.000 د الليفة الواحدة .
- أبحث عن كلفة السياح لو علمت أن كل واحد ترك مدخلا طوله بالمتر 4.5 ،
وأتهما شغلا 3 عمال مقابل 27.5 د عن اليوم الواحد لكل عامل و لمدة 24 يوما ،
كما صنعا بايين ثمن الواحد يمثل 25 % من أجرة العمال .

مع

5

1 - أبحث عن طول السياح :

مع

1

2 - ما هي الكلفة الجمالية للسياح ؟

مع

2

<http://medrassatouna.com>

مع

3

مع

5



السند عدد 4 :

بعد فترة أنتجت أشجار الزيتون المغروسة في أرض أحمد معدل 2720 كغ من حب الزيتون .

باع $5/1$ الصابة وعصر $3/4$ الصابة أيضا ثم ملّح الكميّة الباقية

1 - ابحث عن كمية الزيتون المتبقية بطريقتين مختلفتين بالقنطار

مع
3مع
5

.....

.....

.....

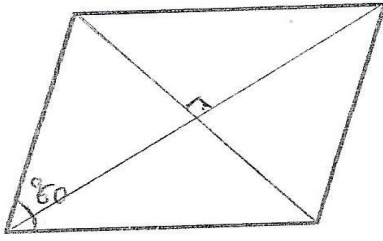
.....

.....

.....


السند عدد 5 :

يوضع حب الزيتون في المعصرة قبل تحويله زيتا في أحواض مبنية مختلفة الأشكال وفق الرسوم التالية :

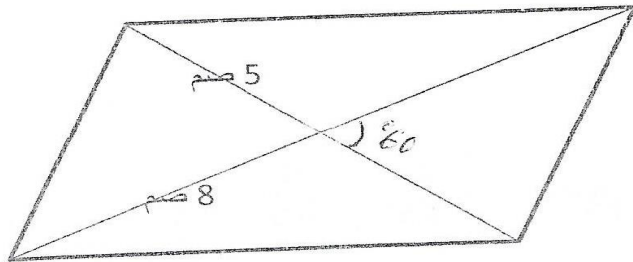
مع
4

5 سم

3 سم



7 سم

مع
4

8 سم

مع
4

أبني رسوما مصغرة لهذه الأحواض حسب المعطيات المذكورة .



جدول إسناد الأعداد

مع 5		مع 4		مع 3		مع 2			مع 1			المعايير
		0		0		0			0			مستويات التملك
												-- -
1.5	1.5	0.5		0.5		1.5	1	0.5	1.5	1	0.5	-- +
						2.5	2		2.5	2		
1		1		1		3			3			- + +
4		1.5		1.5		4.5	4	3.5	4.5	4	3.5	+ + +

