

السند 1 : يوم الجمعة قصد أيمن المسجد صحبة والده لأداء صلاة الجمعة ثم توجه إلى السوق لقضاء بعض الحاجيات .

التعليمة : 1- 1 : أضع العلامة (x) أمام الإفادة الصحيحة

- صلاة الجمعة : حدث دوري

حدث غير دوري

- التسوق : حدث دوري


حدث غير دوري

التعليمة : 2 – 1 : أصلح الخطأ إن وجد :


توجه أيمن إلى السوق لتنشيط جسمه

السند 2 : بعد ذلك توجه أيمن إلى السوق الأسبوعية لبيع الحيوانات وهناك تفاجأ بكثرة أنواعها .


التعليمة 2-1 : ألون الحيوانات التي تنتقل في وسط واحد



سمكة



دجاجة



بطة



خروف

السند 3 : وجد أيمن مجموعة من الديكة فأراد الإمساك بأحدها . حاول الديك الطيران هرباً من أيمن لكن دون جدوى .

التعليمة 1 – 3 : لماذا لا يستطيع الديك الطيران ؟

.....

.....

السند 4 : نظر أيمن إلى ساعته فلاحظ أن وقت العودة إلى المنزل قد حان فالعقرب الصغير يشير إلى الرابعة أما العقرب الكبير فيشير إلى 30 دق .

التعليمة 4-1 : اربط بسهم

ساعة ذات عقارب

ساعة ذات خانات

ساعة حائطية

الساعة التي يملكها أيمن

التعليمة 4-2 : أكمل الفراغ بما يناسب .

الساعة وسيلة لتحديد وقيس الفترات الزمنية القصيرة والطويلة .

السند 5 : نظر أيمن لوالده وسأل : " كيف تمكن الأشخاص سابقا من تحديد الزمن عبر الساعة المائية والساعة الرملية ؟ "

التعليمة 1 - 5 : أكتب "صواب" أو خطأ"

الساعة الرملية والساعة المائية أدوات لقيس الفترات الزمنية الطويلة

السند 6 : وفي طريق العودة انزلق أيمن في غدير ماء فقفز ضفدع من الماء نحو اليابسة وهم بالفرار .

التعليمة 1 - 6 : أربط بسهم :

* قفزا بواسطة أطرافه الخلفية

* قفزا بواسطة أطرافه الأمامية

* بالتجديف بواسطة الغشاء الجلدي الرابط بين أصابعه

* سباحة

يتنقل الضفدع في الماء

يتنقل الضفدع في البر

التعليمة 2 - 6 : أصلح الخطأ إن وجد :

يتنقل الضفدع من الماء إلى اليابسة بحثا عن قوته .

لماذا لا تستطيع الدجاجة التنقل في الماء والبر معا مثل الضفدع ؟

السند 7 : وصل أيمن إلى المنزل . فتحت القفة فوجدت بها أسماكاً شهية مسكت بإحداها لكنها انزلت من بين أصابعها .

التعليمة 1 - 7 : لماذا تفرز الأسماك مادة لزجة تغطي جسمها ؟

جدول إسناد الأعداد

معايير التمييز	معايير الحد الأدنى				
	معد 3	معد 2 ج	معد 2 ب	معد 1 ج	
0	0	0	0	0	انعدام التملك
2,5	1	1	1.5	1.5	التملك دون الأدنى
	2	2	3	3	التملك الأدنى
5	3	3	4.5	4.5	التملك الأقصى



<http://medrassatouna.com/>