

رياضيات س2

تقييم مكتسبات المتعلمين
في نهاية الثلاثي الأول

الإسم:

اللقب:

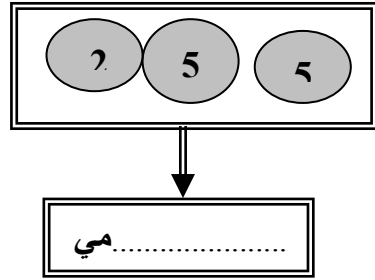
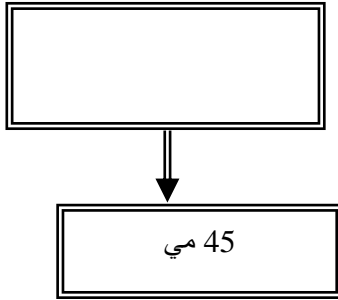
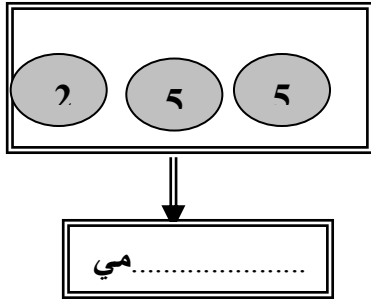
المعلم:

* لَاحَظَتْ مَعْلَمَةُ السَّنَةِ الثَّانِيَةِ أَنَّ بَعْضَ الْأَطْفَالِ لَا يَجْلِبُونَ أَدْوَانَهُمْ وَبَعْدَ تَشَاوُرٍ بَيْنَ بَقِيَّةِ الْأَطْفَالِ لِحَلِّ الْمَشْكِـلِ قَرَرُوا إِنْجَازَ مَشْرُوعٍ لِمُسَاعَدَةِ أَصْدِقَائِهِمْ فَانْقَسَمَ أَطْفَالُ الْفَصْلِ إِلَى 3 مَجْمُوعَاتٍ بِالمَجْمُوعَةِ الْأُولَى 12 طِفْلاً وَبِالمَجْمُوعَةِ الثَّانِيَةِ 21 طِفْلاً وَبِالمَجْمُوعَةِ الثَّلَاثَةِ 9 أَطْفَالٍ.

✍ أرتب الأعداد ترتيباً تنازلياً .

مع
2

* جلب الأطفال مبالغ مالية كما يلي :



مع
3

أحسب المبلغين الممثلين وأمثل 45 مي بما يناسب .

✍ أرتب المبالغ المالية تصاعدياً .

مع
2

* كما أحضرت المجموعة الأولى 21 قلماً أزرق و46 قلماً أخضر.

-أحسب العدد الجملي للأقلام. ✍

مع
5

الإجابة اللفظية

الإجابة العددية

مع
1

مع
2

* أما المجموعة الثانية فقد أحضرت 20 كراساً من الحجم الصغير و 35 كراساً من

الحجم الصغير.

* أحسب العدد الجملي للكراسات

..... - الإجابة اللفظية مع
5
مع

..... - الإجابة العددية مع
2
مع

* في حين أحضرت المجموعة الثالثة 55 ملفا أزرق و 32 ملفا ورديا .

* أحسب العدد الجملي للملفات :

..... مع
1
مع

..... مع
2
مع

..... أرتب العملية

* أعجبت المعلمة بتعاون أطفالها وقدمت لهم هدية تسلمها سيف ليوزعها على أقرانه.


وقبل ذلك أخذ كراسا وشرع يكتب أسماء أصدقائه .

- أضع علامة (X) أمام الإفادة الصحيحة.

يمسك سيف القلم بيده اليسرى

يضع سيف يده تحت الكراس

الكراس تحت يد سيف



جدول إسناد الأعداد

التمك الأدنى

مع4	مع3	مع2	مع1	
1.5	1.5	1.5	3	++
3	3-	3	-5-4 6	+++

دون التملك

مع4	مع3	مع2	مع1
0	0	0	0 -
1-0.5	-0.5 1	-0.5 1	0.5 2 - +

5 / 2.5